

## Lectura n° 11

El domingo estuve en el zoo.

Allí vi muchos animales:

leones, hipopótamos,

elefantes y serpientes, pero


los que más me gustaron

fueron los loros por su

gran variedad de colores.

A las siete y media de la tarde

cerró el zoo y regresamos a casa.



¿Dónde fuimos?

[illegible]

¿Qué día de la semana fuimos al zoo?

[illegible]

¿Qué animales vimos en el zoo?

[illegible][illegible][illegible]

¿Qué animales son los que más me gustaron?

[illegible]

[illegible][illegible][illegible]

león

[illegible][illegible][illegible]

Perro, elefante, cebra, canario, gato, gallina, cabra,  
ciervo, burro, león, conejo, gamo, mono, burro.

Colorea de rojo los nombres de animales que están en femenino y de azul los que están en masculino.

león      rata      caballo      coneja  
tigre      perro  
camello      conejos      hormiga

Une con flechas.

Masculino: el, los

Femenino: la, las

monas  
ratón  
gallos  
pantera  
vaca

Une con flechas.

caballo      sapo  
rana      mujer  
hombre      yegua

En el autobús escolar viajan 15 chicos y 5 chicas más que chicos.  
*¿Cuántas chicas viajan en el autobús?*



**Lee y completa los datos del problema.**

Viajan \_\_\_\_\_ chicos.

Viajan \_\_\_\_\_ chicas más que chicos.

**Subraya la pregunta del problema**

*¿Cómo se llama la conductora del autobús?*

*¿A dónde se dirige el autobús?*

*¿Cuántas chicas viajan en el autobús?*

**Marca la operación que tienes que hacer para resolver el problema.**

Como viajan más chicos que chicas tengo que:

☐ Sumar.      ☐ Restar.

**Haz aquí la operación.**

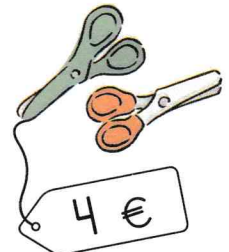



Número de chicos que viajan

Número de chicas más que chicos.

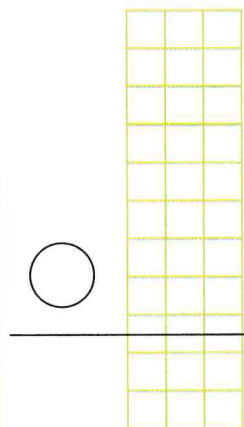
Solución: Viajan \_\_\_\_\_ chicas.



La "seño" nos ha encargado que compremos una caja de lápices de colores, una barra de pegamento y unas tijeras para hacer un trabajo manual en clase.



¿Cuánto dinero he gastado?



¿Qué debo hacer?

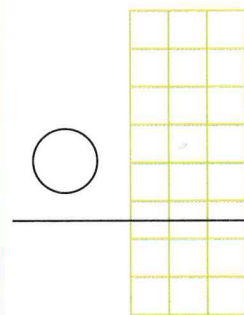
Junto lo que valen las tres cosas que he comprado.

Si junto tengo que:

- ☐ Sumar  
☐ Restar

Solución: He gastado \_\_\_\_\_ €

Si mamá me da 15 €, ¿cuánto dinero me sobra?



¿Qué debo hacer?

Al dinero que me ha dado mamá le quito lo que he gastado.

Si quito tengo que:

- ☐ Sumar  
☐ Restar

Solución: Me sobran \_\_\_\_\_ €


**Marca la respuesta correcta.**

- ☐ Lo más caro son los lápices de colores.  
☐ Lo más barato son las tijeras.

**Marca la respuesta correcta.**

Tengo cuatro canicas más que Javier.

- ☐ Javier tiene más canicas que yo.  
☐ Javier tiene menos canicas que yo.



En una obra de teatro participan 18 niñas y 12 niños.



- ☐ Hay más chicas que chicos.  
☐ Hay más chicos que chicas.

Ana tiene 15 años y su hermano es 4 años menor que Ana.

- ☐ Ana es mayor que su hermano.  
☐ Ana es menor que su hermano.



**Rodea con un círculo la respuesta correcta.**

Mi hermana ha leído 5 páginas y yo 3 más.

¿Cuántas páginas he leído?      3      5      8

Si tengo seis años, ¿cuántos años tendré cuando pasen 5 años?      5      6      11

Si tengo 15 cromos, ¿cuántos me faltan para tener 20?      5      10      20

**Observa el dinero que tiene cada niño y completa con más o menos.**

Pepe tiene..... 5 €

Javier tiene..... 9 €

Laura tiene..... 7 €

Pepe tiene \_\_\_\_\_ que Javier.

Javier tiene \_\_\_\_\_ que Laura.

